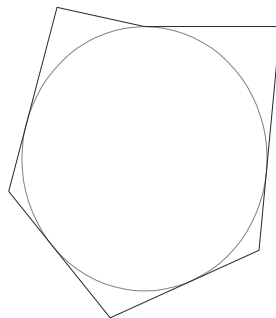
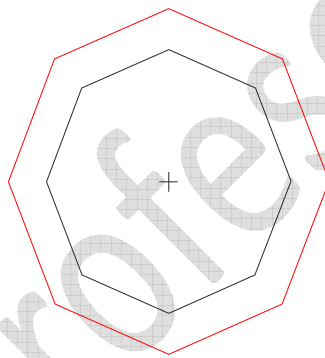
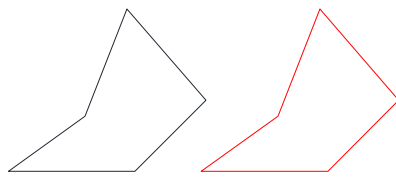


EJERCICIOS DE LAS PROPIEDADES DE LOS POLÍGONOS

1. Determina qué propiedad más representativa tienen las siguientes figuras:



2. Define los siguientes conceptos que forman parte de las propiedades de los polígonos:

- POLÍGONOS SEMEJANTES:
- POLÍGONOS EQUIVALENTES:
- POLÍGONOS INSCRITOS:
- POLÍGONO CONVEXO:

unprofesor.com