





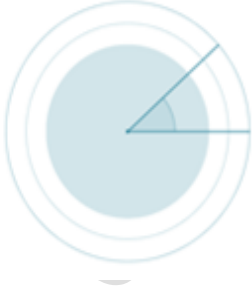




## SOLUCIONES DE CLASIFICACIÓN DE ÁNGULOS SEGÚN MEDIDA

**1. Completa los datos en amarillo para la correcta clasificación de estos ángulos.**

<b>Agudo (<math>&lt; 90^\circ</math>)</b>	<b>Recto (<math>= 90^\circ</math>)</b>
	
<b>Convexo (<math>&lt; 180^\circ</math>)</b>	<b>Llano (<math>= 180^\circ</math>)</b>
	
<b>Nulo (<math>= 180^\circ</math>)</b>	<b>Completo (<math>= 360^\circ</math>)</b>
	
<b>Mayor de <math>360^\circ</math></b>	<b>Obtuso (<math>&gt; 90^\circ</math>)</b>
	
	<b>Cóncavo (<math>&gt; 180^\circ</math>)</b>
	
	<b>Negativo (<math>&gt; 0^\circ</math>)</b>
	