




## EJERCICIOS

### VIDEO: MAYOR QUE, MENOR QUE E IGUAL QUE

1. Escribe lo que significa cada símbolo:

2. Completa con los signos  $>$ ,  $<$  o  $=$ :

3	9	2	2	9	5
26	32	20	19	11	11
46	34	322	326	400	400
273	158	14	15	313	356
33	33	863	900	22	30

3. Ordena esta serie de números de menor a mayor utilizando el signo que necesites:

42-24-6-45-8-1-29-33-41-5