




SOLUCIONES

VIDEO: MAYOR QUE, MENOR QUE E IGUAL QUE

1. Escribe lo que significa cada símbolo:

		
MAYOR QUE	IGUAL QUE	MENOR QUE

2. Completa con los signos $>$, $<$ o $=$:

3 < 9	2 = 2	9 > 5
26 < 32	20 > 19	11 = 11
46 > 34	322 < 326	400 = 400
273 > 158	14 < 15	313 < 356
33 = 33	863 < 900	22 < 30

3. Ordena esta serie de números de menor a mayor utilizando el signo que necesites:

42-24-6-45-8-1-29-33-41-5

1 < 5 < 6 < 8 < 24 < 29 < 33 < 41 < 42 < 45