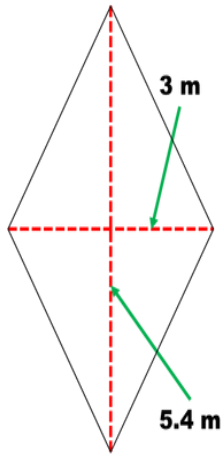
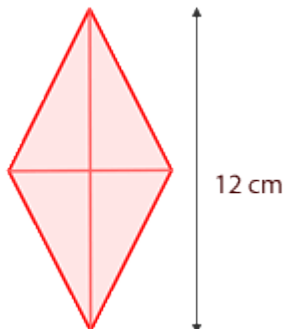


## EJERCICIOS DE ÁREA Y PERÍMETRO DE UN ROMBO

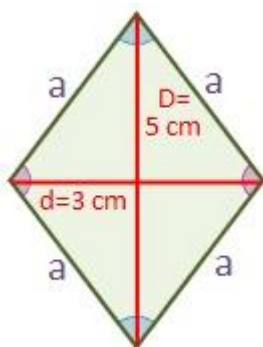
1. Calcula el área y el perímetro de los siguientes rombos:



lado = 3.2cm



Lado = 6.7cm  
 $D = 12\text{cm}$   
 $d =$  la mitad que la diagonal mayor



Lado = 3cm