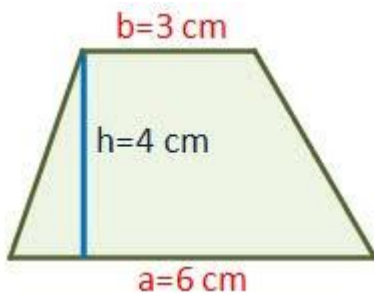
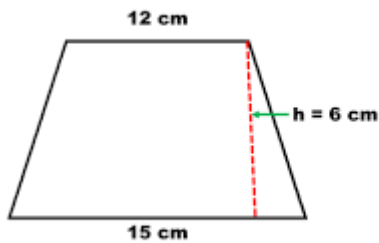
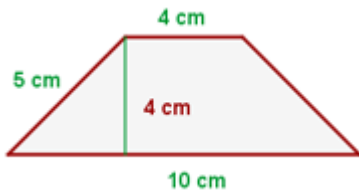


EJERCICIOS DE ÁREA Y PERÍMETRO DE UN TRAPECIO

1. Calcula el área de los siguientes trapezios:



2. Calcula el perímetro de los siguientes trapezios:

